

## ГОРОДСКОЙ КОНКУРС «КУЛЬТУРНЫЙ СЛОЙ-2022»

Фамилия:	Имя:
Школа/гимназия/лицей/учусь дома: № Класс	

### 1. Напишите, что обозначают эти слова

Амфора, лекиф, пифос, кратер	
Могикане, делавары, ирокезы, тлинкиты	
Новгород, Псков, Смоленск, Полоцк	
Гор, Геб, Птах, Себек	
Рамзес, Хеопс, Сети, Тутмос	
Стило, цера, воск	
Купол, барабан, апсида	


### 2. Расположите археологические памятники по времени их создания: Пирамида Хеопса, Новгородский Кремль, крепость Ниеншанц на месте Петербурга, Афинский Акрополь

1.	
2.	
3.	
4.	

### 3. Объясните крылатые выражения

Иерихонские трубы	
Разрубить гордиев узел	
Ахиллесова пята	
Троянский конь	
Вавилонское столпотворение	
Ноев ковчег	

4. В Древнем Новгороде в XIII веке жил мальчик Онфим. Он учился в школе и писал на бересте. Попробуйте прочитать, что он написал, и найти на грамотах имя мальчика Онфима. Попробуйте выполнить перевод на современный русский язык. Напишите общими словами, что написано на этих грамотах.




5. Запишите пропущенные слова (термины, имена, города, страны, определения)

1. Мокасины - это \_\_\_\_\_
2. Александрию Египетскую основал \_\_\_\_\_
3. Висячие сады Семирамиды находились в \_\_\_\_\_
4. Розеттский камень нашли войска \_\_\_\_\_.
5. Египетские иероглифы расшифровал \_\_\_\_\_
6. Первое кругосветное путешествие совершил \_\_\_\_\_
7. Отца Александра Македонского звали \_\_\_\_\_
8. Фермопилы – это \_\_\_\_\_
9. Мемфис – это \_\_\_\_\_
10. Волхов – это \_\_\_\_\_



8. Студент-археолог Вася Черепков скопировал рисунок из гробницы царицы Нефертари, но допустил несколько ошибок в изображении иероглифов и фигур животных. Укажите все ошибки, обведите овалом неправильные иероглифы (всего 5 ошибок)

Верхний рисунок – правильный, это фотография из гробницы Нефертари, нижний рисунок выполнен Васей. Исправляйте ошибки на нижнем рисунке.





9. Как вы думаете, каким древнегреческим городам или правителям принадлежали эти монеты. Попробуйте прочитать надписи или вспомнить мифы

		
<hr/> <hr/> <hr/> <hr/> <hr/>	<hr/> <hr/> <hr/> <hr/> <hr/>	<hr/> <hr/> <hr/> <hr/> <hr/>

10. Подпишите имена правителей Древнего Египта, которым принадлежали эти изображения

Слова-подсказки: Нефертити, Рамзес II, Эхнатон, Аменхотеп III, Хефрен, Тутанхамон

**11. Укажите как можно больше исторических и географических названий на схематичных картах**

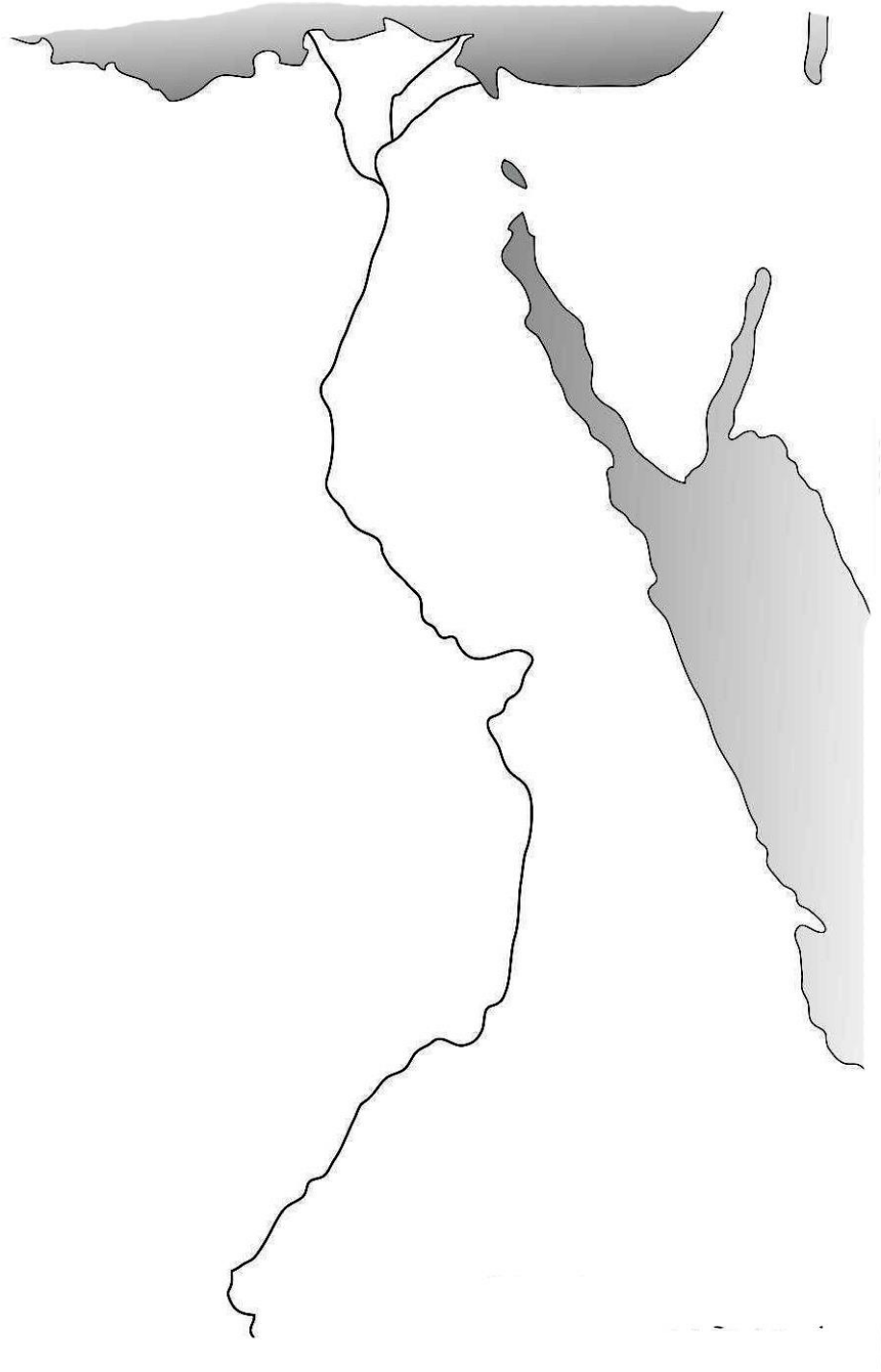
**Путь из Варяг в греки:**

Слова-подсказки: Смоленск, Херсонес, Новгород, Старая Ладога, Киев, Константинополь, Черное море, Ладога, Днепр, Волхов



## Долина реки Нил

Слова-подсказки: Фивы, Мемфис, Александрия, Розетта, Бубастис, Абу-Симбел, Синайский полуостров, Красное море, Средиземное море



## Река Нева

Слова-подсказки: Орешек, Ниеншанц, Петропавловская крепость, Ладожское озеро, Финский залив



## 12. Подпишите знаменитые памятники древности. Соотнесите название памятников и изображения

Слова-подсказки: Тадж-Махал, Стоунхендж, Святая София в Константинополе, Летний Дворец Петра 1, пирамида Хеопса, Парфенон, Собор св. Софии в Новгороде, Пещера Альтамира, Колизей.

