

Задания региональной олимпиады по краеведению школьников Санкт-Петербурга, 2022 г.

(9-11 классы)

РЕГИОНАЛЬНЫЙ ЭТАП

Первый тип заданий

1. **О какой крепости идёт речь?** *(Выберите один правильный ответ)*
 - ✓ Датой основания крепости считается первая половина XIII века;
 - ✓ Крепость расположена на северо-западе Ленинградской области, на краю Ижорской возвышенности;
 - ✓ На территории крепости находится Спасо-Преображенский собор.
 - a) Выборг
 - b) Корела
 - c) Копорье

2. **Укажите год, когда Санкт-Петербург был переименован в Петроград** *(выберите один правильный ответ):*
 - a) 1924 г.
 - b) 1914 г.
 - c) 1918 г.

3. **О каком храме идёт речь?** *(Выберите один правильный ответ)*
 - ✓ Храм возведён на месте покушения на Александра II;
 - ✓ Архитектор А.А. Парланд;
 - ✓ Собор называют музеем мозаики.
 - a) Храм Воскресения Христова (Спас на крови);
 - b) Храм Христа Спасителя (Спас-на-Водах);
 - c) Свято-Троицкий собор в Александро-Невской лавре.

4. **Укажите название музея, в котором находится Большой Готторпский глобус** *(выберите один правильный ответ):*
 - a) Астрономический музей Пулковской обсерватории;
 - b) Музей антропологии и этнографии имени Петра Великого Российской академии наук (Кунсткамера);
 - c) Государственный музей истории Санкт-Петербурга.

5. **Определите, о каком высшем учебном заведении идёт речь?** *(Выберите один правильный ответ)*
 - Учрежден Высочайшим Манифестом 20 ноября (2 декабря) 1809 года (открыт в 1810 г.);
 - Первым ректором был назначен Августин Августинович Бетанкур (1758-1824 гг.);
 - Для нужд Института был передан дворец князя Н.Б. Юсупова (архитектор Дж. Кваренги).
 - a) Петербургский государственный университет путей сообщения Императора Александра I;
 - b) Санкт-Петербургский Горный Университет;
 - c) Санкт-Петербургский политехнический университет Петра Великого.

6. **Определите связь между именами и объектом. Кто является лишним?** *(Укажите в бланке ответов)*

Павел I, В. Бренна, Ф. Лидваль, Инженерный (Михайловский) замок

7. **Укажите название судостроительной верфи, на которой в настоящее время производят атомные ледоколы для освоения Северного морского пути** *(выберите один правильный ответ):*
 - a) Балтийский завод;
 - b) Партикулярная верфь;
 - c) Адмиралтейские верфи.

Второй тип заданий

8. Расположите события в хронологической последовательности (работайте в бланке ответов):

- a) Основана Петербургская Академия Наук;
- b) Восстание декабристов на Сенатской площади;
- c) Открытие регулярного железнодорожного сообщения между Санкт-Петербургом и Москвой;
- d) Построен Строгановский дворец.

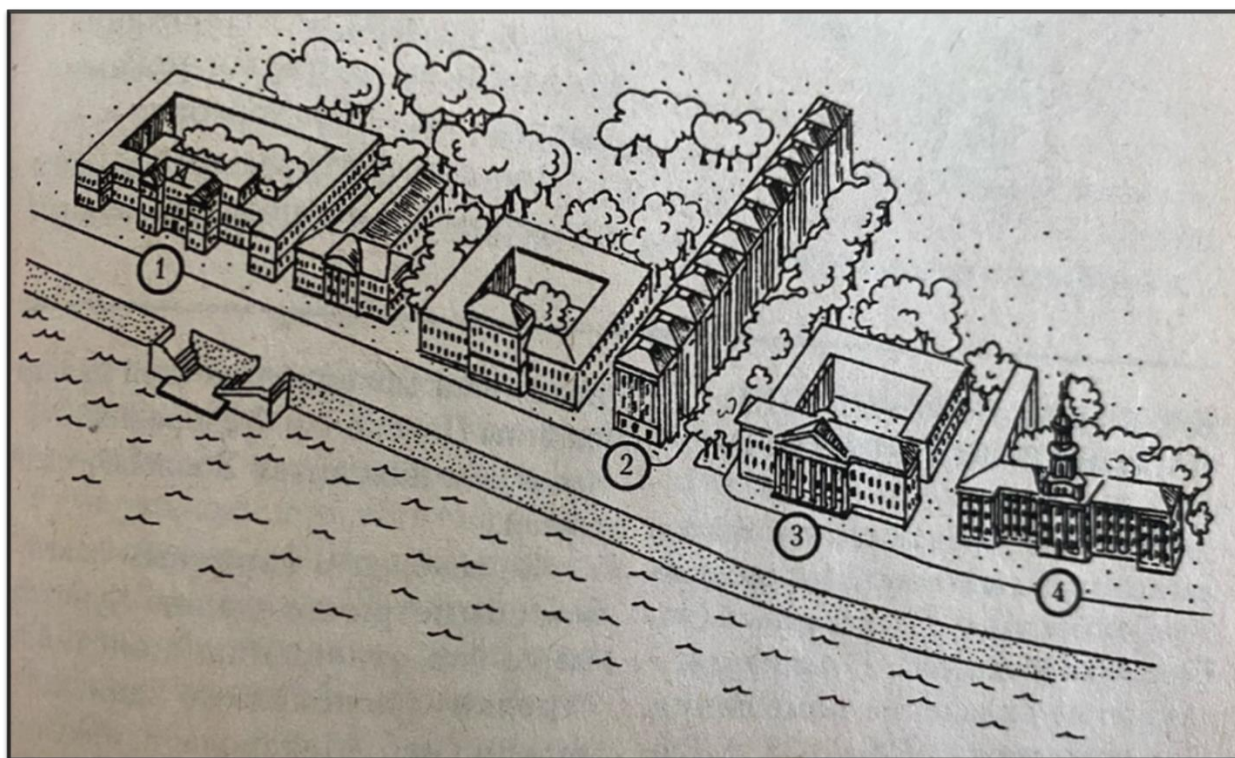
1	2	3	4

9. Установите соответствие между именами знаменитых петербуржцев и родом их занятий, должностью (работайте в бланке ответов):

- | | |
|-----------------------|------------------------|
| 1) А.П. Павлова | a) архитектор |
| 2) А.И. Штакеншнейдер | b) астроном, геодезист |
| 3) В.Я. Струве | c) артист балета |
| 4) З.Е. Серебрякова | d) художник |

1	2	3	4

10. Допишите рядом с номером название объекта городского пространства, под которым он обозначен на схеме (работайте в бланке ответов):




1. _____
2. _____
3. _____
4. _____

11. В каком пригороде Петербурга находятся следующие достопримечательности? (Работайте в бланке ответов)



- a) Пушкин;
- b) Петергоф;
- c) Гатчина.

12. Изобразительные произведения могут являться историческими источниками. Как называется мост, изображенный на фототипии? (Внесите ответ в бланк ответов)



13. В каком архитектурном стиле построены следующие здания? Соотнесите буквы и цифры (работайте в бланке ответов):



А) Дворец культуры им. А.М. Горького



Б) Кикины палаты



В) Смольный институт




Г) Особняк М.Ф. Кшесинской

1) Модерн	
2) Классицизм	
3) Конструктивизм	
4) Петровское барокко	

14. Соотнесите название и изображение памятника (соотнесите буквы и цифры):



А



Б



В



Г

1). Павел I	
2). Петр I	
3). Николай I	
4). Александр III	

Третий тип заданий

15. Представьте, что к вам в гости приехал друг, увлекающийся петровской эпохой. Какие объекты, связанные с деятельностью Петра I в нашем городе, вы бы ему показали?

Укажите не менее 3 объектов и краткую информацию о них (работайте в бланке ответов).